

2026(令和8)年度 沖縄国際大学一般選抜試験問題

【選択科目：世界史探究】

注意事項

1. 試験開始の合図があるまで、この問題冊子の中を見てはいけない。
2. 志願票及び受験票に記入された科目を解答すること。
3. 志願票及び受験票に記入された以外の選択科目を解答した場合は、無効とする。
4. 筆記用具は、鉛筆（HB）または、0.5ミリのシャープペンシル（HB）に限る。
5. 問題の印刷不鮮明、ページの落丁・乱丁に気付いた場合は、手を挙げて監督者に知らせること。
6. 問題冊子の余白等は適宜利用してもよい。
7. 試験終了後、解答用紙のみを提出すること。問題冊子は持ち帰ること。

2026(令和8)年度 沖縄国際大学一般選抜試験問題

【世界史探究】

※ 解答はすべて解答用紙に記入すること。

I. 歴史における家族に関する次の各文を読み、後の問いに答えなさい。

- A. インドでは、①ヒンドゥー教と結びついたカースト（ジャーティ）制度が成立し、同じジャーティ内で結婚した。
- B. ②中世西ヨーロッパ社会の農奴は、不自由な身分でありながらも、家族・農具・家畜などを所有できた。
- C. ナポレオンは、③1804年に公布した民法典において、「夫が家族の統率の主である」と規定した。
- D. 周王朝の封建制度では、小家族の分家を本家の家長が統率し、④宗族としての結束が図られた。

問1 下線部①について、ヒンドゥー教には、カースト（ジャーティ）のもとになったヴァルナ（種姓）と呼ばれる基本的身分があるが、このヴァルナごとの生活規範をまとめたものとして適切なものを、次の中から1つ選び、記号で答えなさい。（2点）

ア. 『リグ＝ヴェーダ』

イ. 『マハーバーラタ』

ウ. 『ラーマヤナ』

エ. 『マヌ法典』

問2 下線部②について、次の各文のうち、中世西ヨーロッパの農奴の説明として適切ではないものを1つ選び、記号で答えなさい。（2点）

ア. 農奴は、領主直営地で週に3日ほど労働する義務を負っていた。

イ. 農奴は、自らの保有地での生産物の一部を領主に納める義務を負っていた。

ウ. 農奴は、家族を所有できたが、結婚税や死亡税でその自由も制限されていた。

エ. 農奴は、パン焼きかまどや水車を何の制限もなく、自由に利用することができた。

問3 下線部③について、この民法典に含まれるものとして適切ではないものを、次の中から1つ選び、記号で答えなさい。(2点)

ア. 三権の分立 イ. 契約の自由 ウ. 所有権の保障 エ. 権利の平等

問4 下線部④について、宗族の結束を維持するための規範として定められたものを答えなさい。(2点)

問5 上記のA～Dの中で、最も古いものを1つ選び、記号で答えなさい。(2点)

II. 次の文を読み、後の問いに答えなさい。

前8世紀ごろから、エーゲ海周辺に多くの都市国家（ポリス）を形成したギリシア人は、共通の言語や神々への信仰、祭典などを通じて独自の文化を発展させた。市民たちは政治や裁判に参加し、自由な議論を重んじる風土の中で、①哲学・演劇・建築など多彩な文化を生み出した。

前4世紀後半、マケドニア王国の台頭とアレクサンドロス大王の東方遠征により、ギリシア世界は広大な領域に拡大し、ポリスの自治的性格は失われていった。②征服地にはギリシア風の都市が建設され、先住のオリエン特文化と融合したヘレニズム文化が形成されることになった。この時代の都市は、図書館・体育館・劇場などが整備され、ポリス時代の伝統を受け継ぎながらも、王が統治し、広域的な交易ネットワークを有する新しい空間となった。また、③幾何学や天文学、医学といった自然科学の分野が著しく発展し、ギリシア文化はより実用的・国際的な性格を帯びていった。

ポリスは限られた市民による政治共同体としての性格から④広大な空間に文化を拡散させる媒介に変化した。こうして、ギリシア人の都市国家は地中海世界全体に長く影響を与えることになった。

問1 下線部①について、ギリシアの文化に関する次の各文のうち、最も適切なものを1つ選び、記号で答えなさい。（3点）

- ア. ホメロスがまとめた叙事詩『イリアス』と『オデュッセイア』には、トロイア（トロヤ）戦争の英雄たちとともにオリンポスの神々が登場する。
- イ. ソクラテスは『形而上学』や『政治学』を著し、対話篇で自らの哲学を示した。
- ウ. フェイディアスはパルテノン神殿建設の総監督を担当し、ヘルメス神像をつくった。
- エ. アリストファネスは『アガメムノン』などの悲劇作品を描いた。
- オ. ヘロドトスは『歴史』でペロポネソス戦争を記し、「歴史の父」と呼ばれている。

問2 下線部②について、アレクサンドロス大王の遠征後に建設されたエジプトのアレクサンドリアは、ヘレニズム時代の学問や文化の発展にどのような役割を果たしたか。「ムセイオン」という語を必ず用いて説明しなさい。（6点）

問3 下線部③について、ヘレニズム時代の自然科学に関する次の各文のうち、内容が誤っているものを1つ選び、記号で答えなさい。(3点)

- ア. アルキメデスは、てこの原理や浮力を発見し、自然科学の発展に寄与した。
- イ. エウクレイデス（ユークリッド）は、恒星の位置を精密に測り、地軸が少しずつ向きを変える歳差運動を世界で初めて発見した。
- ウ. エラトステネスは、地球の周囲の長さを計測した。
- エ. アリスタルコスは、地球の自転と公転を指摘し、地動説を提唱したとされる。

問4 下線部④について、ギリシア文化が広域に広がるなかで、特定のポリスへの帰属意識が薄れ、全人類を一つの共同体とみなす思想が生まれた。このような思想を何というか、答えなさい。(3点)

Ⅲ. 次の文を読み、後の問いに答えなさい。

〔 A 〕の洪武帝は、貿易に関して厳格な国家管理体制をしき、民間の海上貿易を禁止した。また、永楽帝は積極的な対外政策を展開し、ムスリムの宦官〔 B 〕の船団を東南アジア・インド洋に派遣し、一時的に多くの南海諸国が〔 A 〕に朝貢した。

その後、女真の統合に成功し、〔 A 〕に対抗したヌルハチの跡を継いだホンタイジは国号を〔 C 〕と定めた。〔 C 〕は康熙帝の即位からの3代約130年間で最盛期である。この間に①台湾を拠点に〔 C 〕に抵抗していた〔 D 〕を降伏させ、支配体制が安定すると、貿易に関する厳格な国家管理体制を解除した。これ以降、〔 C 〕では、従来の朝貢貿易に加えて、②ヨーロッパ貿易に対する新たな仕組みを整えた。

問1 空欄AからDに入れるのに適切な語句を、次のアからクの中からそれぞれ1つ選び、記号で答えなさい。(各2点)

- | | | | |
|--------|--------|--------|-------|
| ア. 宋 | イ. 元 | ウ. 明 | エ. 清 |
| オ. 王陽明 | カ. 鄭成功 | キ. 朱元璋 | ク. 鄭和 |

問2 下線部①について、空欄Dの人物が拠点を築く前、台湾を占領していた国を、次の中から1つ選び、記号で答えなさい。(2点)

- | | | | |
|----------|---------|---------|---------|
| ア. ポルトガル | イ. オランダ | ウ. イギリス | エ. スペイン |
|----------|---------|---------|---------|

問3 下線部②について、乾隆帝はヨーロッパとの貿易をどのように管理したか。「広州」「公行」の語を必ず用いて説明しなさい。(6点)

IV. 次の文を読み、後の問いに答えなさい。

神聖ローマ帝国では、①大空位時代を経て、15世紀半ば以降、ハプスブルク家が皇帝位をほぼ世襲するようになった。ハプスブルク家は婚姻を通じて領土を拡大し、カルロス1世（カール5世）はスペイン王位と神聖ローマ皇帝位を兼ねた。彼の退位後、スペイン王位は②フェリペ2世が継ぎ、神聖ローマ皇帝位はフェルディナント1世が継いだ。

神聖ローマ帝国内では宗教対立が次第に激化し、③三十年戦争が始まった。この戦争は1648年に講和条約が結ばれて終結し、④ハプスブルク家の神聖ローマ皇帝としての支配力は次第に弱まった。

問1 下線部①について、大空位時代を経た後にカール4世が発布し、神聖ローマ皇帝選出の手続きを定めた文書の名称を答えなさい。（3点）

問2 下線部②について、フェリペ2世に関連する下の文の空欄AからCに入れるのに適切な語句を、下のアからケの中からそれぞれ1つ選び、記号で答えなさい。（各2点）

フェリペ2世は1571年にレパント沖の海戦で〔 A 〕を破って地中海の制海権を握り、1580年にイベリア半島を政治的に統一した。一方で、低地地方に〔 B 〕信仰を強制したことなどによって、オラニエ公ウイレムを指導者とする独立運動を誘発した。低地地方の南部10州は途中で独立運動から離脱するものの、北部7州は抵抗を続け、1581年にネーデルラント連邦共和国として独立を宣言した。また、フェリペ2世は1588年に遠征艦隊を編成し〔 C 〕に出撃したが惨敗し、スペインの国力低下を露呈することとなった。

ア. カトリック

イ. プロテスタント

ウ. イスラーム教

エ. エジプト

オ. ポルトガル

カ. フランス

キ. イギリス

ク. オスマン帝国

ケ. ロシア

問3 下線部③について、三十年戦争について述べた次の各文のうち、誤りを含むものを1つ選び、記号で答えなさい。(2点)

- ア. プロテスタント国デンマークとスウェーデンがプロテスタント側の援助を名目に参戦した。
- イ. カトリック国であるフランスがプロテスタント側に立って参戦した。
- ウ. 講和条約であるフベルトゥスブルク条約では、アウクスブルクの宗教和議の原則が確認された。
- エ. 戦争の結果、神聖ローマ帝国内の領邦に主権が認められた。

問4 下線部④について、オーストリアのハプスブルク家に関する以下の文章を年代の古い順に並べ替えたとき、3番目にくるものを1つ選び、記号で答えなさい。(3点)

- ア. ヨーゼフ2世は啓蒙専制君主として国内の改革を試みた。
- イ. マリア＝テレジアがハプスブルク家の領土を継いだことにフランスやプロイセンが異議を唱えて戦争が始まった。
- ウ. オーストリアは長年敵対していたフランスと同盟し、シュレジエンの奪還を目指した。
- エ. オーストリアはイギリスの支援を受けてオーストリア継承戦争を戦った。

V. 次の文を読み、後の問いに答えなさい。

1783年のパリ条約で独立が承認されたアメリカ合衆国は、ミシシッピ川以東の広大な領土をイギリスから割譲された。その後制定された①合衆国憲法に基づき、1789年に新政府が発足すると、外交政策として、②混乱状況にあったヨーロッパに対する中立を方針としてうちたてた。アメリカ合衆国は、この状況の中で貿易によって利益をあげることができたが、イギリスがアメリカの通商を妨害したために、1812年に戦争がはじまった。また、③ラテンアメリカ諸国の独立に対しては、ヨーロッパ諸国の干渉に反対する方針を発表した。

他方で、アメリカは④領土拡大に積極的に取り組み、1848年にはカリフォルニアを獲得し、1890年には⑤「フロンティア」の消滅が宣言された。このことは、アメリカ国内市場が限界に達したことを意味したことから、アメリカでは海外市場を求める意見が強まり、⑥太平洋地域やカリブ海への積極的な進出を進めることとなった。

問1 下線部①について、合衆国憲法の特徴として適切ではないものを、次の中から1つ選び、記号で答えなさい。(3点)

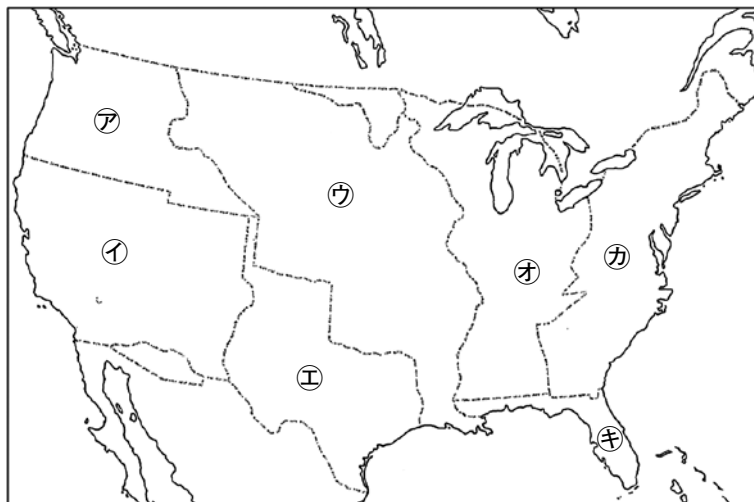
- ア. 連邦主義が採用された。
- イ. 人民主権が基礎とされた。
- ウ. 三権分立が明確に定められた。
- エ. 立憲君主制が確立した。

問2 下線部②について、この当時、ヨーロッパが混乱状況にあった理由を答えなさい。(3点)

問3 下線部③について、この外交政策を何と呼ぶか、答えなさい。(3点)

問4 下線部④について、次の各文の説明の結果としてアメリカ合衆国が獲得した領土を、下の地図中の記号の中からそれぞれ1つ選び、記号で答えなさい。(各2点)

- A. フランスから買収した。
- B. アメリカ＝メキシコ戦争に勝利した。



問5 下線部⑤について、フロンティアの獲得は、神から与えられた使命であるとする考え方で正当化されていた。下の絵は、この理論を象徴するものとして描かれたものである。この考え方を何と呼ぶか、答えなさい。(3点)



〔アメリカ合衆国議会図書館所蔵〕

問6 下線部⑥について、アメリカ合衆国国務長官ジョン＝ヘイが中国政策に関して発した政策の内容として適切ではないものを、次の中から1つ選び、記号で答えなさい。(2点)

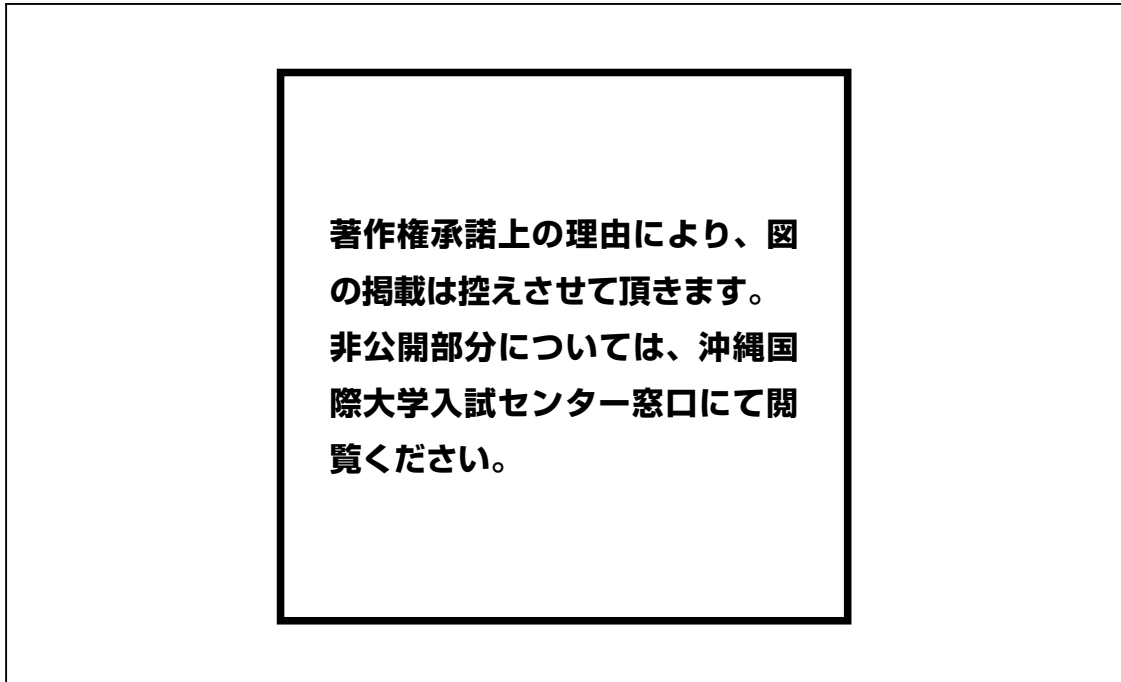
ア. 門戸開放

イ. 機会均等

ウ. 領土保全

エ. 民族自決

Ⅵ. 下の地図は、19世紀末から20世紀初頭のアジア地域の国境画定の状況などを表したものである。この地図に関する、後の問いに答えなさい。

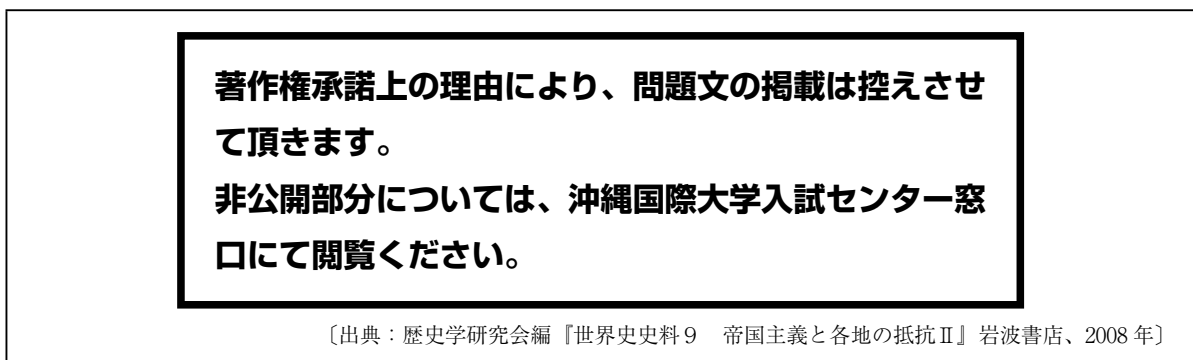


〔出典：川島真・服部龍二編『東アジア国際政治史』名古屋大学出版会、2007年〕

問1 次の各文が説明する条約として適切なものを、地図の条約名の中からそれぞれ選んで、その条約名を答えなさい。(各2点)

- ア. ロシアが、第2次アヘン戦争に乗じて中国と結び、黒竜江以北をロシア領とした。
- イ. 幕末以来の国境問題を解決するために、日本がロシアとの間で結んだ。

問2 次の資料の空欄に入れるに最も適切な地名を、地図の中から選び、答えなさい。(2点)



〔出典：歴史学研究会編『世界史史料9 帝国主義と各地の抵抗Ⅱ』岩波書店、2008年〕

問3 日清戦争で日本が勝利したことで、地図で表されている地域の国際関係はどのように変化したか。「朝貢」、「条約」の語を必ず用いて説明しなさい。(6点)

VII. 次の文を読み、後の問いに答えなさい。

第二次世界大戦後、戦争の惨禍を繰り返さないという決意のもと、国際連合（国連）が創設された。その中で、安全保障理事会（安保理）は国際平和と安全を維持するための中核的な機関として位置づけられ、アメリカ・イギリス・フランス・ロシア・中国の5か国が、〔 A 〕として〔 B 〕を持ち、特別な地位を与えられている。この仕組みは、冷戦期の勢力均衡を反映しているが、現在の国際情勢にそぐわないとの批判も根強く、安保理の構成や制度の見直しを求める声が各国から上がっている。

近年では、パレスティナ問題やアフリカ諸国の内戦、さらにはロシアによるウクライナ侵攻などに対して、①国際社会の対応が分かれる場面も多く、国連の調整機能の限界が指摘されるようになった。

一方で、国際社会は戦争の防止だけでなく、人間の尊厳を守るための課題にも取り組んでいる。たとえば、地球温暖化の抑制に向けて、発展途上国を含む世界各国が取り組むことを定めた〔 C 〕や、貧困・教育・ジェンダー平等などの課題に取り組み、すべての人々が安心して暮らせる社会を目指す〔 D 〕がある。

問1 空欄AからDに入れるのに適切な語句を、次のアからシの中からそれぞれ1つ選び、記号で答えなさい。（各1点）

- | | | | |
|------------|-----------|---------|------------|
| ア. パリ協定 | イ. 全会一致 | ウ. NATO | エ. 常任理事国 |
| オ. 京都議定書 | カ. PKO | キ. 拒否権 | ク. 核兵器禁止条約 |
| ケ. 国際刑事裁判所 | コ. 非常任理事国 | サ. 国連憲章 | シ. SDGs |

問2 国際連合の専門機関および関連機関に関する次の説明のうち、内容が誤っているものを1つ選び、記号で答えなさい。（3点）

- ア. UNESCO は教育・科学・文化の振興を目的とし、1972年採択の世界遺産条約の実施を担っている。
- イ. WHO は1948年に発足し、感染症対策や国際保健規則（IHR）の勧告を通じて各国の公衆衛生向上を図っている。
- ウ. UNICEF は第二次世界大戦で被災した子どもたちに支援を行うために1946年に設立された。現在は途上国の教育・保健など幅広い支援活動を行っている。
- エ. UNHCR は1950年に設立され、紛争や迫害などで故郷を追われた人々を国際的に保護・支援し、難民問題の解決へ向けた活動を行っている。
- オ. ILO は国連の専門機関として、各国の労働条件の監視を行い、違反があった場合は制裁措置を課して労働基準の遵守を強制している。

問3 次の文の空欄にあてはまる語句を、英語の略称で記入しなさい。(2点)

第二次世界大戦後、各国の経済安定と国際通貨体制の維持を目的として設立された国際機関に〔 〕がある。この機関は、経済危機に陥った国に融資を行い、財政改革などを支援している。

問4 下線部①について、国際社会の対応が分かれる背景には、どのような要因があるか。下の資料をもとに説明しなさい。(6点)

著作権承諾上の理由により、問題文の掲載は控えさせていただきます。
非公開部分については、沖縄国際大学入試センター窓口にて閲覧ください。

〔出典：防衛省『令和4年版防衛白書』2022年、
(URL <https://www.mod.go.jp/j/press/wp/wp2022/html/n120004000.html>)〕

